




トランプで数字遊びするよ。

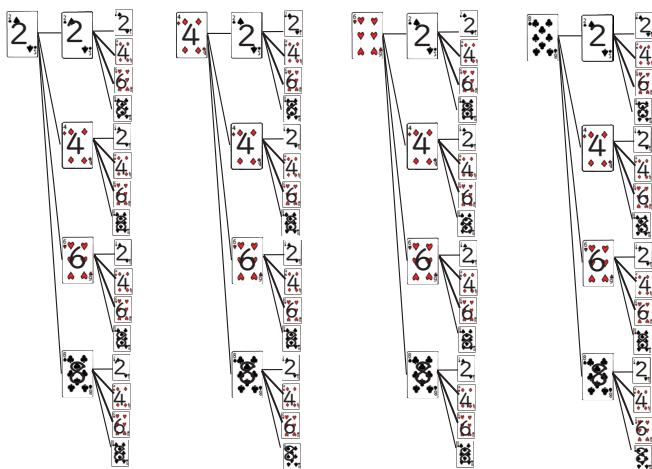
場合の数
Part4



下の4枚のトランプの数字を使い3桁の整数をつくります。同じ数字を何回使ってもよいです。全部で何通りの整数ができますか。




式で求めてみましょう。



$$4 \times 4 \times 4 = 64 \text{通り}$$

64 通り



中学受験プリント ダウンロード
受験テキスト
© 受験テキスト

