

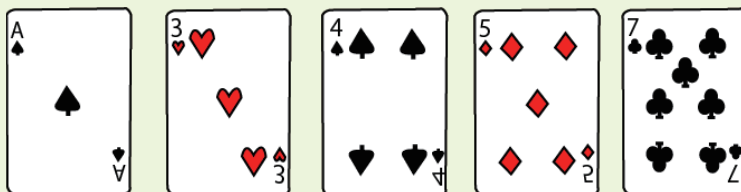


トランプで数字遊びするよ。

場合の数
Part4



下の5枚のトランプの数字を使います。5枚のカードから3枚使って3桁の整数をつくります。全部で何通りの整数ができますか。




式で求めてみましょう。

$$5 \times 4 \times 3 = 60$$

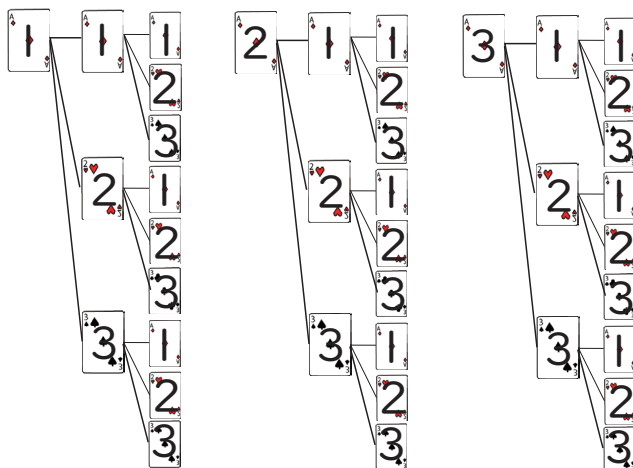
60 通り



下の3枚のトランプの数字を使い3桁の整数をつくります。同じ数字を何回も使ってよいです。全部で何通りの整数ができますか。




樹形図を書きましょう。



$$3 \times 3 \times 3 = 27 \text{ 通り}$$

27 通り



中学受験プリント ダウンロード
受験テキスト
© 受験テキスト

