

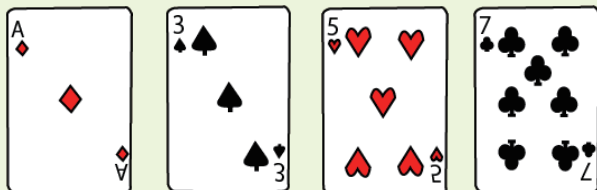


# あそ トラップで数字遊びするよ。

場合の数 Part4



下の4枚のトラップの数字を使います。そのうち3枚を使って3桁の整数をつくります。全部で何通りの整数ができますか。




しきもと 式で求めてみましょう。

$$4 \times 3 \times 2 = 24$$

24 とお 通り



下の3枚のトラップの数字を使います。そのうち2枚を使って2桁の整数をつくります。全部で何通りの整数ができますか。




しきもと 式で求めてみましょう。

$$3 \times 2 = 6$$

6 とお 通り



下の3枚のトラップの数字を使います。そのうち3枚を使って3桁の整数をつくります。全部で何通りの整数ができますか。



しきもと 式で求めてみましょう。

$$3 \times 2 \times 1 = 6$$

6 とお 通り



中学受験プリント ダウンロード

## 受験テキスト

© 受験テキスト

