





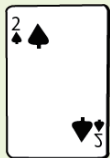


トランプで数字遊びするよ。


場合の数
Part4



下の4枚のトランプの数字を使い3桁の整数をつくります。同じ数字を何回使ってもよいです。全部で何通りの整数ができますか。



式で求めてみましょう。



中学受験プリント ダウンロード

受験テキスト

© 受験テキスト

