






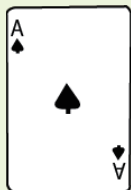


# トランプで数字遊びするよ。

場合の数  
Part4



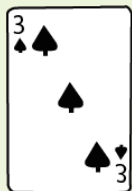

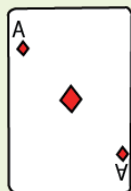
下の5枚のトランプの数字を使います。5枚のカードから3枚使って3桁の整数をつくります。全部で何通りの整数ができますか。




式で求めてみましょう。



下の3枚のトランプの数字を使い3桁の整数をつくります。同じ数字を何回も使ってよいです。全部で何通りの整数ができますか。



樹形図を書きましょう。



中学受験プリント ダウンロード  
受験テキスト  
© 受験テキスト

