

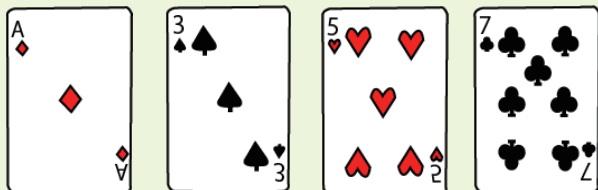


あそ トラップで数字遊びするよ。

場合の数 Part4




下の4枚のトラップの数字を使います。そのうち3枚を使って3桁の整数をつくります。全部で何通りの整数ができますか。



しきもと 式で求めてみましょう。




下の3枚のトラップの数字を使います。そのうち2枚を使って2桁の整数をつくります。全部で何通りの整数ができますか。




しきもと 式で求めてみましょう。



下の3枚のトラップの数字を使います。そのうち3枚を使って3桁の整数をつくります。全部で何通りの整数ができますか。



しきもと 式で求めてみましょう。



中学受験プリント ダウンロード
受験テキスト
© 受験テキスト

