


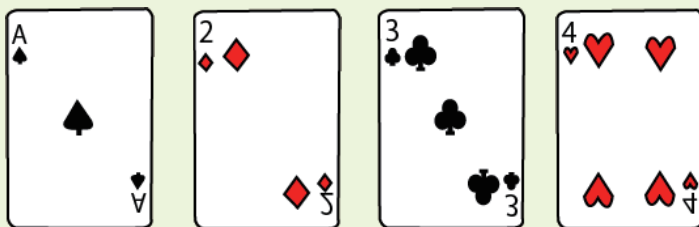


あそ
トランプで数字遊びするよ。

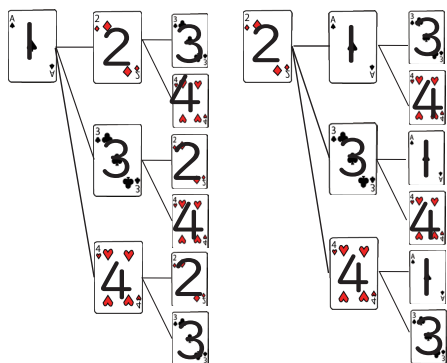
場合の数
Part4



すうじ つか けた せいすう
下の4枚のトランプの数字を使って、3桁の整数をつくります。
300より小さい数を、小さい順に全部書きましょう。



じゅけいす か
樹形図を書きましょう。
百の位、十の位、1の位にならべる。

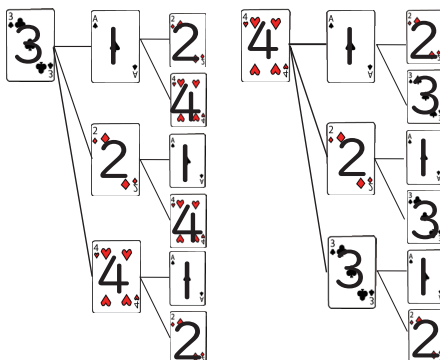


123, 124, 132, 134, 142, 143, 213, 214, 231, 234, 241, 243



すうじ つか けた せいすう
上の4枚のトランプの数字を使って、3桁の整数をつくります。
300より大きい数を、おおきい順に樹形図で書きましょう。

じゅけいす か
樹形図を書きましょう。



432, 431, 423, 421, 413, 412, 342, 341, 324, 321, 314, 312



中学受験プリント ダウンロード
受験テキスト
© 受験テキスト

