


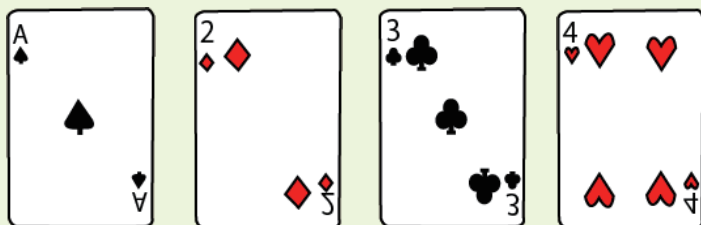


トランプで数字遊びするよ。

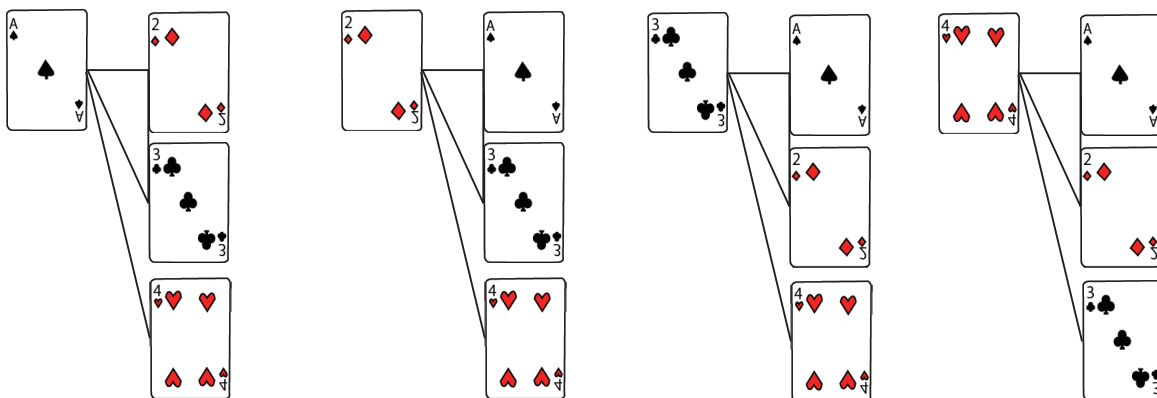
場合の数
Part4



下の4枚のトランプの数字を使って、2桁の整数をつくる時、何通りできますか。



じゅけいず か
樹形図を書きましょう。




$$3 \times 4 = 12 \text{ 通り}$$

しきもと
式で求めてみましょう。

十の位・・・1、2、3、4の4通り。
一の位・・・十の位で使った残りの3通り。
だから、 $4 \times 3 = 12$ 通り。

12 とお
通り



中学受験プリント ダウンロード

受験テキスト

© 受験テキスト

