




# トランプで数字遊びするよ。

場合の数  
Part4



下の4枚のトランプの数字を使って、3桁の整数をつくります。




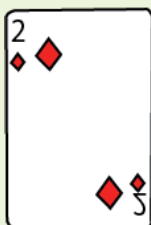
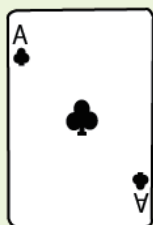
を利用して何通りあるか答えなさい。

樹形図を書きましょう。

とお  
通り



ジョーカーが0とするとき、下の4枚のトランプの数字を使って整数をつくります。何通りできますか。



樹形図を書きましょう。

とお  
通り



中学受験プリント ダウンロード

受験テキスト

© 受験テキスト

