




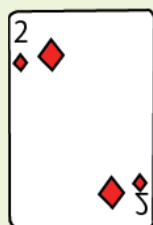
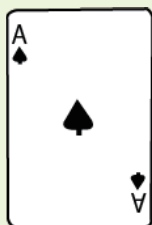


あそ
トランプで数字遊びするよ。

場合の数
Part4



すうじ つか けた せいすう
下の4枚のトランプの数字を使って、3桁の整数をつくります。
300より小さい数を、小さい順に全部書きましょう。



じゅけいず か
樹形図を書きましょう。



すうじ つか けた せいすう
上の4枚のトランプの数字を使って、3桁の整数をつくります。
300より大きい数を、おおきい順に樹形図で書きましょう。

じゅけいず か
樹形図を書きましょう。



中学受験プリント ダウンロード
受験テキスト
© 受験テキスト

