


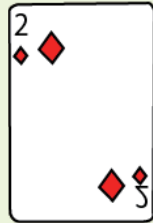


トランプで数字^{あそ}遊びするよ。

場合の数
Part4




下の4枚のトランプの数字を使って、2桁の整数をつくる時、何通りできますか。



じゅけいず^か
樹形図を書きましょう。

しき^{もと}
式で求めてみましょう。



中学受験プリント ダウンロード

受験テキスト

© 受験テキスト

