

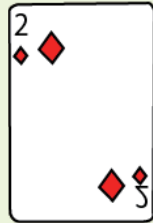


トランプで数字<sup>あそ</sup>遊びするよ。

場合の数  
Part4

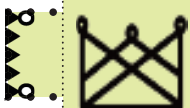


下の4枚のトランプの数字を使って、2桁の整数をつくる時、何通りできますか。



じゅけいず<sup>か</sup>  
樹形図を書きましょう。

しき<sup>もと</sup>  
式で求めてみましょう。



中学受験プリント ダウンロード

受験テキスト


© 受験テキスト






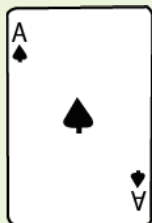


あそ  
トランプで数字遊びするよ。

場合の数  
Part4



すうじ つか けた せいすう  
下の4枚のトランプの数字を使って、3桁の整数をつくります。  
300より小さい数を、小さい順に全部書きましょう。



じゅけいず か  
樹形図を書きましょう。



すうじ つか けた せいすう  
上の4枚のトランプの数字を使って、3桁の整数をつくります。  
300より大きい数を、おおきい順に樹形図で書きましょう。

じゅけいず か  
樹形図を書きましょう。




中学受験プリント ダウンロード  
受験テキスト  
© 受験テキスト





# トランプで数字遊びするよ。

場合の数  
Part4



下の4枚のトランプの数字を使って、3桁の整数をつくります。



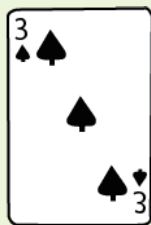
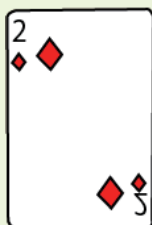

を利用して何通りあるか答えなさい。

樹形図を書きましょう。

とお  
通り



ジョーカーが0とするとき、下の4枚のトランプの数字を使って整数をつくります。何通りできますか。



樹形図を書きましょう。

とお  
通り



中学受験プリント ダウンロード

受験テキスト


© 受験テキスト





あそ  
トランプで数字遊びするよ。

場合の数  
Part4



しきもと  
式で求めてみましょう。

とお  
通り



中学受験プリント    ダウンロード

受験テキスト

© 受験テキスト

