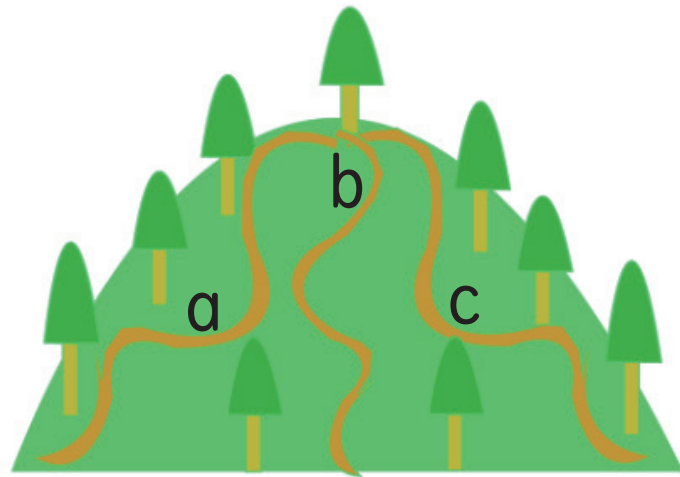





うらやま のぼ みち なんとお
 裏山に登る道は何通りかな 一場合の数

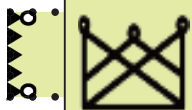


がっこう うらやま のぼ とお みち うらやま のぼ
 学校の裏山に登るには、3通りの道があります。裏山へ登っており
 てくるには、何通りの道がありますか。下りは登りと同じ道を
 を通ってもかまいません。

じゅけいず か
 樹形図を書きましょう。

しき もと
 式で求めてみましょう。

とお
 通り



中学受験プリント ダウンロード
 受験テキスト
 © 受験テキスト

