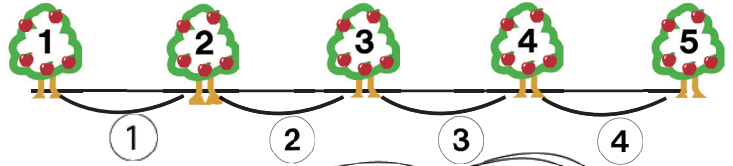


# 植木算

## ① 両端に植える時



木の数は何本かな。

木と木の間はいくつ空いてるかな。



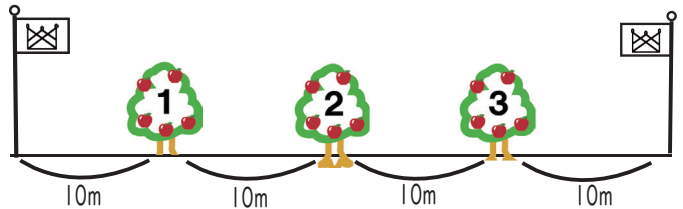
ア. \_\_\_\_\_ 本

\_\_\_\_\_ つ

$$5 = 4 + 1$$

木の数 = 間の数 + 1

## ② 両端に植えない時



旗の間に10m感覚で木を3本植える時、  
左右の旗の間は全部で何mですか。



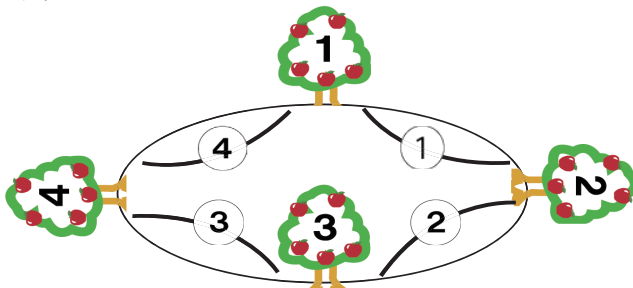
ウ. 式 \_\_\_\_\_

$$4 = 3 + 1$$

間の数 = 木の数 + 1

答え \_\_\_\_\_ つ

## ③ 両端がつながってる



木の数 = 間の数

池の周りに木を4本植えました。

木と木の間はいくつですか。



エ. \_\_\_\_\_ つ

ポイント：自分で図や絵を描いてイメージしてね。



中学受験プリント ダウンロード

受験テキスト

© 受験テキスト



答え ア：5 イ：4 ウ：40 (10m × 4 = 40m) エ：4